



امتحان الصف الحادي عشر
للعام الدراسي ١٤٣٧/١٤٣٨ هـ - ٢٠١٦/٢٠١٧ م
الدور الثاني - الفصل الدراسي الثاني

- المادة: الجغرافيا الاقتصادية.
- زمن الإجابة: ساعتان.
- عدد صفحات أسئلة الامتحان: (٩) صفحات.
- الإجابة في الورقة نفسها.

		اسم الطالب
الصف		المدرسة

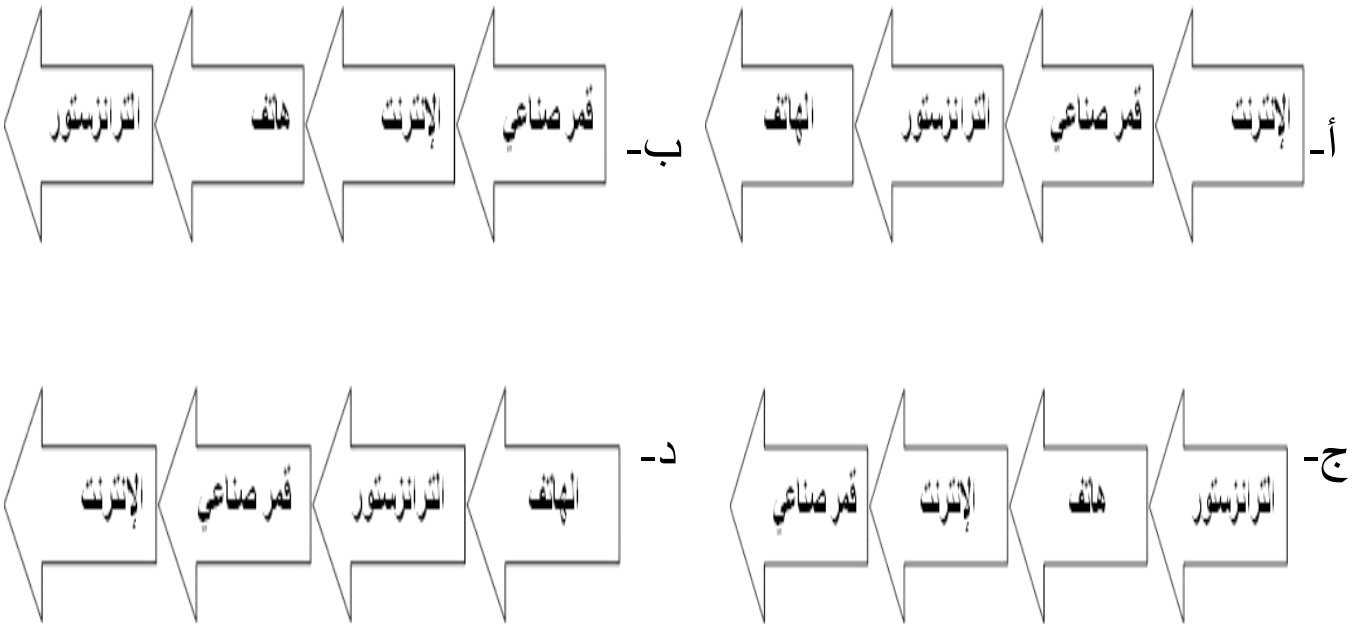
التوقيع بالاسم		الدرجة		السؤال
المصحح الثاني	المصحح الأول	بالحروف	بالأرقام	
				١
				٢
				٣
				٤
مراجعة الجمع	جمعه			المجموع
				المجموع الكلي

أجب عن جميع الأسئلة الآتية
السؤال الأول: ضع دائرة حول رمز الإجابة الصحيحة لكل مفردة من المفردات الآتية:

- ١- التقنية الحديثة المستخدمة في تخطيط شبكات الطرق وإجراء دراسات تحليلية عنها:
- أ- GIS .
ب- GPS .
ج- RS .
د- Google Earth .

- ٢- يربط خط راس الرجاء الصالح بين:
- أ- أوروبا وآسيا .
ب- أمريكا وأستراليا .
ج- أمريكا وآسيا .
د- أوروبا وأستراليا .

٣- الترتيب الصحيح لتطور الاختراعات في مجال الاتصالات:



٤- انضمت سلطنة عمان إلى منظمة التجارة العالمية:

- أ- ١٩٩٨م .
ب- ٢٠٠٠م .
ج- ٢٠٠٢م .
د- ٢٠٠٤م .

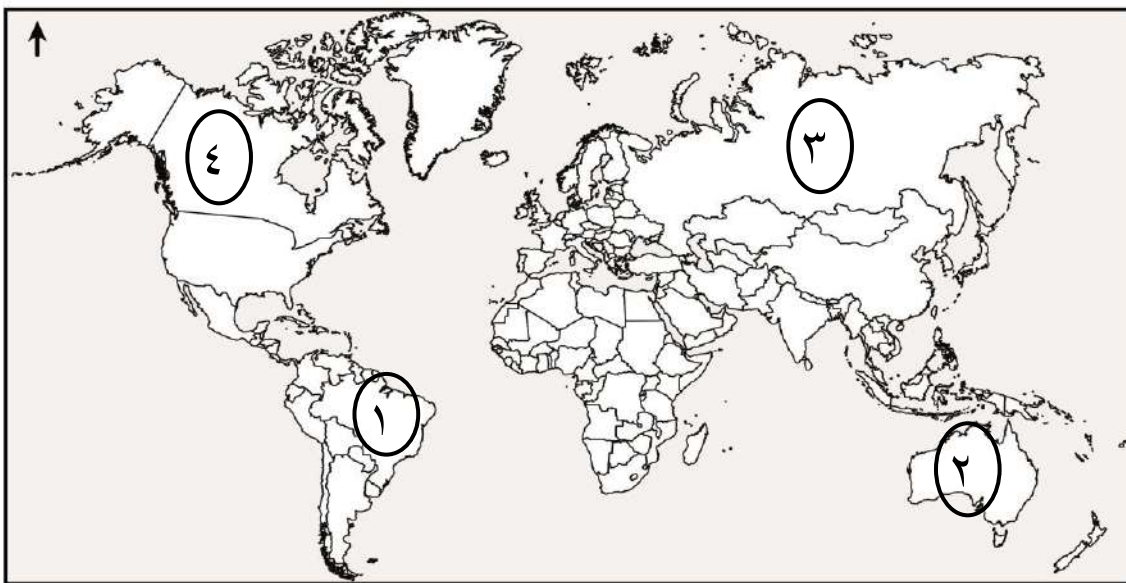
يتبع/٢

تابع السؤال الأول:

٥- " القيمة النقدية النهائية لجميع السلع والخدمات المنتجة في اقتصاد ما خلال فترة زمنية محددة" يقصد به:

- أ- التعرفة الجمركية.
ب- الناتج المحلي الإجمالي.
ج- ميزان المدفوعات.
د- الميزان التجاري.

٦- الرقم الذي يشير إلى الدولة التي تعد من أوائل الدول المطبقة لنظام الحسابات السياحية:



- أ- ١.
ب- ٢.
ج- ٣.
د- ٤.

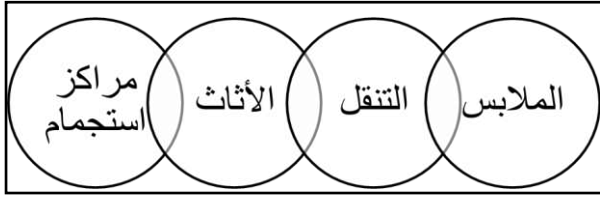
٧- نوع السياحة في الصورة التي أمامك:



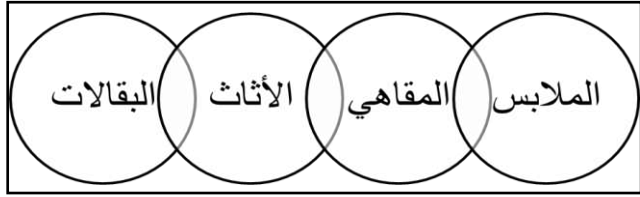
- أ- ثقافية.
ب- رياضية.
ج- علاجية.
د- جيولوجية.

تابع السؤال الأول:

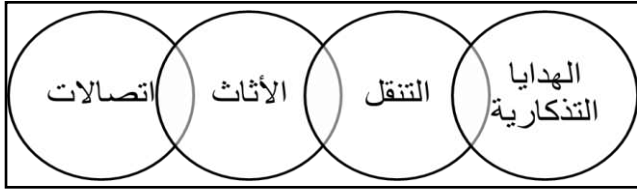
٨- الشكل الصحيح الذي يمثل تسهيلات الإمداد (الراحة) في الموقع السياحي:



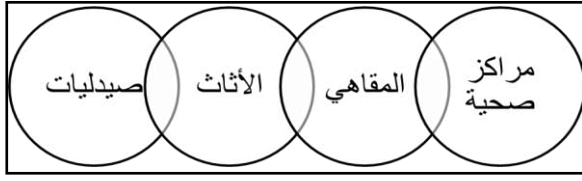
(ب)



(أ)



(د)



(ج)



٩- يوجد متحف التاريخ الطبيعي الواضح في الشكل الذي أمامك:

- أ- نيويورك.
- ب- كاليفورنيا.
- ج- واشنطن.
- د- لوس أنجلوس.

١٠- تعد من أنواع السياحة المكلفة والمحدودة سياحة:

- أ- رحلات السفاري.
- ب- تسلق الجبال.
- ج- الأعمال.
- د- الفضاء.

تابع السؤال الأول:

- ١١- من أكثر الشعوب القديمة شهرة في تمهيد شبكة كبيرة من الطرق البرية:
 أ- اليونان .
 ب- الفراعنة.
 ج- الرومان.
 د- الفرس.

- ١٢- من خلال الجدول الذي أمامك الدولة الأوربية الأكثر جذباً للسياح:

الدولة	عدد السياح/ مليون
الصين	٥٥,٧
إيطاليا	٤٧,٧
مصر	٩,٢
تركيا	٣٧,٨
بريطانيا	٣١,٢

- أ- بريطانيا. ب- الصين. ج- تركيا. د- إيطاليا.

السؤال الثاني:

- أ- عرّف المفاهيم الآتية:
 ١- النقل المستدام.

.....

- ٢- ميزان المدفوعات.

.....

- ب- عدد اثنين لكل من:

- ١- أهمية النقل في المجال الاقتصادي.

.....

.....

تابع السؤال الثاني:

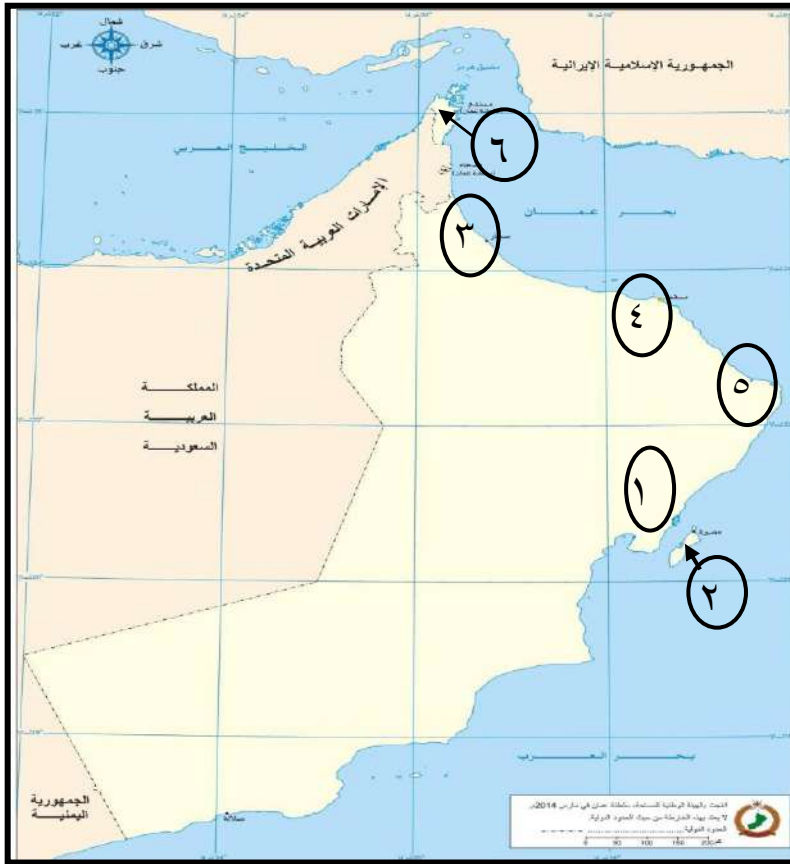
٢- العوامل المؤثرة في التجارة الدولية.

- ■
- ■

٣- أهمية السياحة بالنسبة للأفراد والمجتمعات.

- ■
- ■

ج- أمامك خريطة سلطنة عمان ادرسها جيداً ثم أجب عن الأسئلة التالية:



١- نوع المناخ في المنطقة المشار إليها بالرقم (٦).

٢- ما نوع وسيلة النقل السياحية المناسبة بين المنطقتين (١ و ٢).....

٣- ظلل باستخدام الرمز  موقع محمية جبل سمحان.

٤- ما الرقم الذي يشير إلى موقع ميناء تصدير الغاز الطبيعي. () .

السؤال الثالث:

أ (١) - فسر ما يأتي:

أ- استخدام جهاز (GPS) في الملاحة البحرية.

ب- يجب أن يكون مصب النهر عريضاً لكي يكون صالحاً للملاحة.

أ (٢) - أمامك مجموعة من الأشكال تمثل أنواع السياحة المختلفة، ادرسها جيداً ثم أجب عن الأسئلة التالية:



(٢)



(١)

أ- كم تشكل نسبة السياحة التي يمثلها الشكل المشار إليها بالرقم (١) من إجمالي سوق السياحة.

ب- بماذا تتميز السياحة التي يمثلها الشكل المشار إليها بالرقم (٢).

ب (١) - وضح في جدول مميزات وعيوب النقل بالأنابيب.

مميزات النقل بالأنابيب	عيوب النقل بالأنابيب
■	■
■	■

يتبع/٧

تابع السؤال الثالث:

ب (٢)- الشكل المقابل يوضح إحدى التقنيات الحديثة في مجال الاتصالات،



أدرسه جيداً ثم أجب عن الأسئلة الآتية:

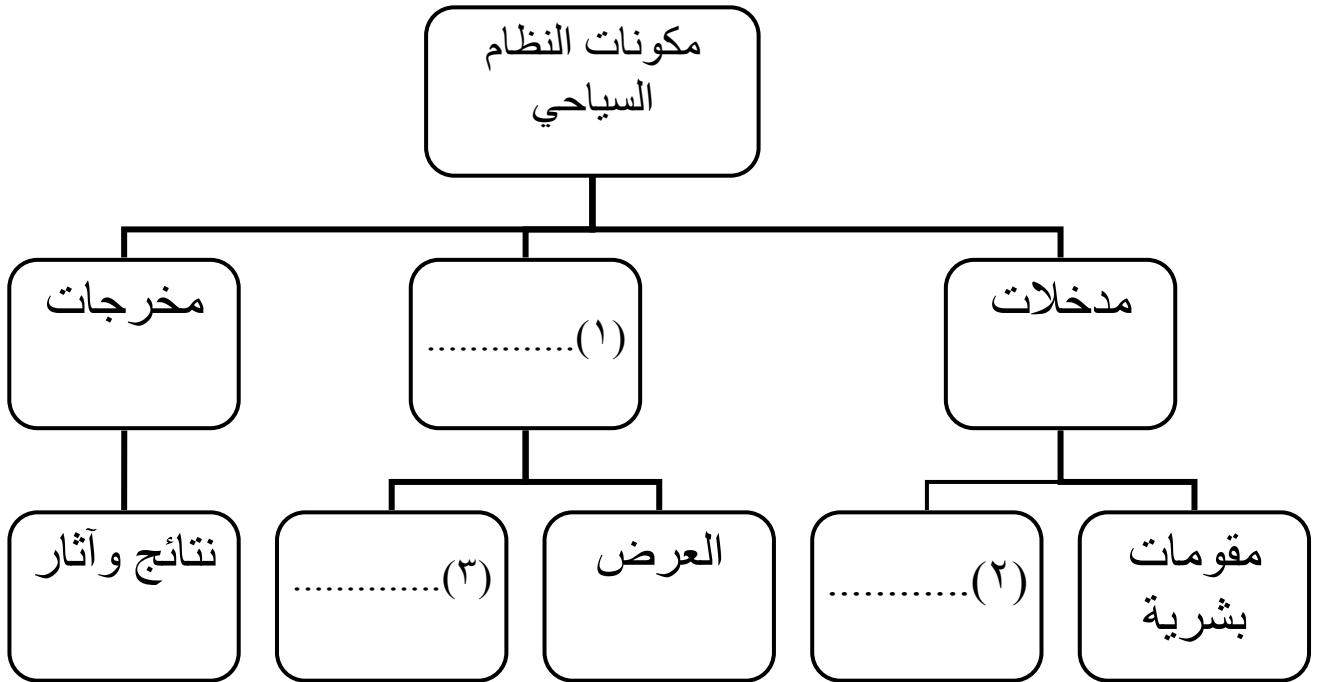
أ- عرف التقنية الموضحة في الشكل الذي أمامك.

.....
.....

ب- وضح أثر هذه التقنية على مجال الاتصالات ونقل البيانات.

■
■

ج- أكمل المخطط الآتي:



السؤال الرابع:



أ (١)- ادرس الشكل المقابل جيداً ثم أجب عن الأسئلة الآتية:

أ- ما أسم المدونة التي يرمز لها الشعار الواضح في الشكل المقابل.

.....
.....

ب- اذكر مجالاً واحداً من المجالات الرئيسية التي اشتملت عليها المدونة.

.....

أ (٢)- "قام محمد بشراء جهاز لاب توب عن طريق الأنترنت" في ضوء العبارة السابقة:

أ- ما نوع التجارة الواردة في النص.

.....

ب- وضح طريقة الدفع.

.....

ب- (١) فرق بين مفهوم كل من المسافرين والسائح في الجدول التالي:

السائح	المسافر
.....
.....
.....

تابع السؤال الرابع:

ب- (٢) وضح آثار السياحة على البيئة على كل من:
أ- الغلاف الغازي.

ب- البيئة الجبلية.

ج- البيئة البحرية.

ج- صنف الأنشطة الترفيهية التالية حسب الدولة التي تمارس فيها (التزلج على الجليد- التزلج على الرمال- التزلج على الماء).

النشاط السياحي	الدولة
	١- الأردن
	٢- لبنان
	٣- سلطنة عُمان

انتهت الأسئلة مع الدعاء للجميع بالتوفيق والنجاح.



نموذج إجابة امتحان الصف الحادي عشر
للعام الدراسي ١٤٣٧/١٤٣٨ هـ - ٢٠١٦/٢٠١٧ م
الدور الثاني - الفصل الدراسي الثاني

المادة: الجغرافيا الاقتصادية
الدرجة الكلية: (٦٠) درجة.
تنبيهه: نموذج الإجابة في (٤) صفحات.

أولاً: إجابة السؤال الموضوعي:

إجابة السؤال الأول

المفردة	البديل الصحيح	الإجابة	الدرجة	الصفحة
١	أ	GIS	٢	١٠٦
٢	د	أوروبا وأستراليا.	٢	١١٥
٣	د		٢	١٢٢
٤	ب	٢٠٠٠م	٢	١٣٢
٥	ب	الناتج المحلي الإجمالي	٢	١٤٦
٦	د	٤	٢	١٤٨
٧	د	جيولوجية	٢	١٦٢
٨	ب		٢	١٧٣
٩	أ	نيويورك.	٢	١٨٧
١٠	د	الفضاء.	٢	١٥٩
١١	ج	الرومان.	٢	١٠٦
١٢	د	إيطاليا.	٢	١٧٨
		المجموع	٢٤	

(٢)

تابع نموذج إجابة امتحان الصف الحادي عشر
للعام الدراسي ١٤٣٧/١٤٣٨ هـ - ٢٠١٦/٢٠١٧ م
الدور الثاني- الفصل الدراسي الثاني
المادة : الجغرافيا الاقتصادية

ثانيا: إجابة الأسئلة المقالية:

إجابة السؤال الثاني		الرمز (/) يعني إجابة أخرى صحيحة	الدرجة الكلية: (١٢) درجة
الجزئية	المفردة	الإجابة الصحيحة	الدرجة
أ	١	استخدام وسائل نقل أقل تأثيراً على البيئة.	١
	٢	سجل يوضح جميع المعاملات الاقتصادية لدولة ما مع بقية دول العالم خلال فترة زمنية معينة عادة تكون سنة.	١
ب	١	<ul style="list-style-type: none"> يساعد على ربط مناطق الإنتاج بمناطق الاستهلاك. / تأمين إنتقال الأفراد والمواد الخام والبضائع. / عاملاً مساعداً في استغلال الموارد الطبيعية. / يحقق التكامل الاقتصادي بين الدول. / مساهمته في تشغيل الأيدي العاملة. / توفير فرص العمل لشريحة كبيرة من السكان. (يكتفى بمفردتين، لكل مفردة درجة).	٢
	٢	<ul style="list-style-type: none"> البيئة الطبيعية. السكان. التطور الاقتصادي. النقل والاتصالات. الاتفاقيات التجارية. السياسات الحكومية (يكتفى بمفردتين، لكل مفردة درجة).	٢
	٣	<ul style="list-style-type: none"> تعزز روح الانتماء عند الوطن. توطد روح العمل الجماعي بين المشاركين في الرحلات. وسيلة مهمة لتحقيق التقارب بين الشعوب. تعمل على تطوير العلاقات الاجتماعية من خلال الانفتاح على العالم. تساعد على الاهتمام بالتراث والمحافظة عليه. تعمل على الترويج عن النفس. أي إجابة تفيد المعنى (يكتفى بمفردتين، لكل مفردة درجة).	٢
ج	١	شبة صحراوي.	١
	٢	السياحة بواسطة السيارة وسفن العبور.	١
	٣	التظليل على محمية جبل سمحان.	١
	٤	٥	١

(٣)

تابع نموذج إجابة امتحان الصف الحادي عشر
للعام الدراسي ١٤٣٧/١٤٣٨ هـ - ٢٠١٦/٢٠١٧ م
الدور الثاني - الفصل الدراسي الثاني.
المادة : الجغرافيا الاقتصادية.

تابع ثانيا: إجابة الأسئلة المقالية:

الدرجة الكلية: (١٢) درجة		الرمز (/) يعني إجابة أخرى صحيحة	إجابة السؤال الثالث	الجزئية				
الصفحة	الدرجة	الإجابة الصحيحة	المفردة					
١١٥	١	يساعد السفن على تحديد المواقع في البحار والمحيطات في مختلف الظروف الجوية عن طريق الاتصال بالأقمار الصناعية.	أ	أ (١)				
١١٣	١	كي يسهل حمل الرواسب التي قد تعيق الملاحة النهرية.	ب					
١٥٣	١	٣٧%.	أ	أ (٢)				
١٥٨	١	بالاستمرارية دون انقطاع / يولد شعوراً بالراحة النفسية لدى الزائر.	ب					
١١١	٢	<table border="1"> <tr> <td>عيوب النقل بالأنابيب</td> <td>مميزات النقل بالأنابيب</td> </tr> <tr> <td>امتداد الأنابيب على أراضي عدة دول مما يجعلها عرضة لمخاطر الانقلابات السياسية في الدول التي تمتد عبرها/ الطاقة الاستيعابية محدودة ولا يمكن زيادتها إلا بعد زيادة قطر الأنابيب أو استخدام المضخات.</td> <td>أرخص أنواع النقل / تنخفض التكلفة كلما زاد قطر الأنبوب/ لا تقف الظروف الجوية أو التضاريس عائقاً أمام النقل/ إمكانية نقل الغاز أو النفط بسرعة ولمسافات طويلة.</td> </tr> </table>	عيوب النقل بالأنابيب	مميزات النقل بالأنابيب	امتداد الأنابيب على أراضي عدة دول مما يجعلها عرضة لمخاطر الانقلابات السياسية في الدول التي تمتد عبرها/ الطاقة الاستيعابية محدودة ولا يمكن زيادتها إلا بعد زيادة قطر الأنابيب أو استخدام المضخات.	أرخص أنواع النقل / تنخفض التكلفة كلما زاد قطر الأنبوب/ لا تقف الظروف الجوية أو التضاريس عائقاً أمام النقل/ إمكانية نقل الغاز أو النفط بسرعة ولمسافات طويلة.		ب (١)
عيوب النقل بالأنابيب	مميزات النقل بالأنابيب							
امتداد الأنابيب على أراضي عدة دول مما يجعلها عرضة لمخاطر الانقلابات السياسية في الدول التي تمتد عبرها/ الطاقة الاستيعابية محدودة ولا يمكن زيادتها إلا بعد زيادة قطر الأنابيب أو استخدام المضخات.	أرخص أنواع النقل / تنخفض التكلفة كلما زاد قطر الأنبوب/ لا تقف الظروف الجوية أو التضاريس عائقاً أمام النقل/ إمكانية نقل الغاز أو النفط بسرعة ولمسافات طويلة.							
		يكتفى بمفردة لكل عنصر (لكل مفردة درجة).						
١٢٤	١	هي ألياف مصنوعة من الزجاج النقي تكون طويلة ورفيعة ولا يتعدى سمكها سمك الشعرة.	أ					
١٢٤	٢	<ul style="list-style-type: none"> ▪ زيادة عدد المكالمات بين دول العالم. ▪ تحسين نوعية الاتصال فأصبح أكثر نقاوة وسرعة. 	ب	ب (٢)				
		(لكل مفردة درجة).						
١٦٦	٣	١- عمليات. ٢- مقومات طبيعية. ٣- الطلب.		ج-				

(٤)

تابع نموذج إجابة امتحان الصف الحادي عشر
للعام الدراسي ١٤٣٧/١٤٣٨ هـ - ٢٠١٦/٢٠١٧ م
الدور الثاني - الفصل الدراسي الثاني.
المادة : الجغرافيا الاقتصادية

تابع ثانيا: إجابة الأسئلة المقالية:

إجابة السؤال الرابع		الرمز (/) يعني إجابة أخرى صحيحة	الدرجة الكلية: (١٢) درجة								
الجزئية	المفردة	الإجابة الصحيحة	الدرجة								
أ (١)	أ	المدونة العالمية لأخلاقيات السياحة.	١								
	ب	المحافظة على الموارد البيئية / المحافظة على المجتمع وثقافته / تحقيق منافع اقتصادية مهمة. <u>يكتفى بمفردة واحدة</u>	١								
أ (٢)	أ	التجارة الإلكترونية.	١								
	ب	بطاقة الإنتمان.	١								
ب- (١)	<table border="1"> <thead> <tr> <th>المسافر</th> <th>السائح</th> </tr> </thead> <tbody> <tr> <td>هو كل شخص يخرج في رحلة بين دولتين أو أكثر أو بين موقعين أو أكثر داخل حدود بلده.</td> <td>شخص يسافر إلى أي مكان خارج نطاق بيئته العادية لمدة لا تقل عن ١٢ ساعة؛ بهدف ممارسة أنشطة لا تستهدف التكسب من المكان المزار.</td> </tr> </tbody> </table>		المسافر	السائح	هو كل شخص يخرج في رحلة بين دولتين أو أكثر أو بين موقعين أو أكثر داخل حدود بلده.	شخص يسافر إلى أي مكان خارج نطاق بيئته العادية لمدة لا تقل عن ١٢ ساعة؛ بهدف ممارسة أنشطة لا تستهدف التكسب من المكان المزار.	٢				
	المسافر	السائح									
هو كل شخص يخرج في رحلة بين دولتين أو أكثر أو بين موقعين أو أكثر داخل حدود بلده.	شخص يسافر إلى أي مكان خارج نطاق بيئته العادية لمدة لا تقل عن ١٢ ساعة؛ بهدف ممارسة أنشطة لا تستهدف التكسب من المكان المزار.										
<u>لكل مفردة درجة</u>											
ب- (٢)	أ	ما تنتفثه عوادم السيارات من أكاسيد.	١								
	ب	حدوث التعرية والانهيئات الأرضية نتيجة استخدام الممرات الجبلية وتسلق الجبال من قبل أعداد كبيرة من السياح / تلوث التربة بالمواد السامة (الأكاسيد) نتيجة سير المركبات بسرعة بطئية.	١								
	ج	ما يقوم به الصيادون وصناع التحف من تدمير للشعاب المرجانية/ إلقاء كميات كبيرة من المخلفات في البحر مما يؤدي إلى تلوث الحياة البحرية وانتشار الأمراض.	١								
ج	<table border="1"> <tbody> <tr> <td>الدولة</td> <td>النشاط السياحي.</td> </tr> <tr> <td>١- الأردن.</td> <td>التزلج على الماء.</td> </tr> <tr> <td>٢- لبنان.</td> <td>التزلج على الجليد.</td> </tr> <tr> <td>٣- سلطنة عمان.</td> <td>التزلج على الرمال.</td> </tr> </tbody> </table>		الدولة	النشاط السياحي.	١- الأردن.	التزلج على الماء.	٢- لبنان.	التزلج على الجليد.	٣- سلطنة عمان.	التزلج على الرمال.	٣
	الدولة	النشاط السياحي.									
	١- الأردن.	التزلج على الماء.									
	٢- لبنان.	التزلج على الجليد.									
٣- سلطنة عمان.	التزلج على الرمال.										
<u>لكل مفردة درجة</u>											



امتحان الصف الحادي عشر
للعام الدراسي ١٤٣٧/١٤٣٨ هـ - ٢٠١٦/٢٠١٧ م
الدور الأول - الفصل الدراسي الثاني

- المادة: الجغرافيا الاقتصادية.
- زمن الإجابة: ساعتان.
- عدد صفحات أسئلة الامتحان: (١٠) صفحات.
- الإجابة في الورقة نفسها.

		اسم الطالب
الصف		المدرسة

التوقيع بالاسم		الدرجة		السؤال
المصحح الثاني	المصحح الأول	بالحروف	بالأرقام	
				١
				٢
				٣
				٤
مراجعة الجمع	جمعه			المجموع
				المجموع الكلي

أجب عن جميع الأسئلة الآتية
السؤال الأول: ضع دائرة حول رمز الإجابة الصحيحة لكل مفردة من المفردات الآتية:

- ١- جميع ما يلي من مميزات التجارة الإلكترونية – ما عدا:
 أ- انخفاض التكاليف.
 ب- توفير الوقت والجهد.
 ج- حرية الاختيار.
 د- ارتفاع درجة الأمان.

٢- أي من الأنهار التالية يعد الأفضل للملاحة النهرية:

النهر الرابع	النهر الثالث	النهر الثاني	النهر الأول
متقطع الجريان مصب النهر عريضاً يخلو من الجنادل	يخلو من الشلالات كثير الانحدار كثير الجنادل	دائم الجريان مصب النهر عريضاً يخلو من الجنادل	مصب النهر عريضاً يخلو من الجنادل كثير التعرج

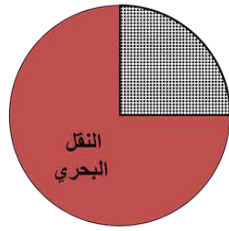
(د)

(ج)


(ب)

(أ)

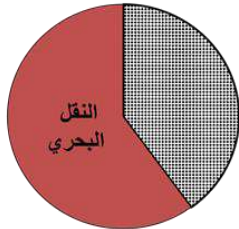
٣- الشكل الصحيح الذي يمثل نسبة ما يتم نقله بواسطة النقل البحري من حجم التجارة العالمية:




(ب)



(أ)



(د)



(ج)

يتبع/٢

تابع السؤال الأول:



٤- القمر الصناعي المتخصص برصد الحالة الواضحة في الصورة التي أمامك:

ب- Nilesat

أ- Landsat

د- GOES

ج- TIROS

٥- النسبة التي تهدف السلطنة للوصول إليها في مساهمة القطاع السياحي من الناتج المحلي بحلول عام ٢٠٢٠م:

ب- ٥%

أ- ٣%

د- ١٠%

ج- ٧%

٦- من الفنون العمانية التي سجلت في القائمة الدولية لليونسكو لصون التراث الثقافي:

العازي
العيالة
البرعة

الرزحة
البرعة
العيالة

البرعة
الربوبية
العازي

العيالة
الرزحة
التغرود

(د)

(ج)

(ب)

(أ)



٧- يوجد المعلم السياحي في الشكل الواضح أمامك في ولاية:

ب- الجازر.

أ- الدقم.

د- محوت.

ج- هيماء.

يتبع/٣

تابع السؤال الأول:

٨- الدولة التي يوجد بها أكبر شبكة نقل عن طريق الأنابيب في العالم:

أ- روسيا. ب- بريطانيا.

ج- الصين. د- الولايات المتحدة الأمريكية.

٩- من خلال الجدول الذي أمامك أكبر قطاع يزيد فيه عدد القوى العاملة الوطنية عن القوى العاملة الوافدة:

النشاط.	القوى العاملة الوطنية.	القوى العاملة الوافدة.
شركة الطيران.	٣١٥٢	٢١٦٣
مكاتب السفر والسياحة.	١٢٦٥	٢٣١٢
الفنادق والمنتجعات.	٢٧٢٤	٦٦٠٨
تأجير السيارات.	٢١٠	١٢٤

أ- شركة الطيران. ب- مكاتب السفر والسياحة.

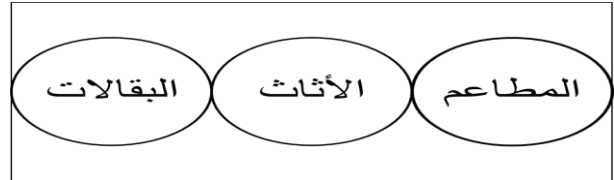
ج- تأجير السيارات. ج- الفنادق والمنتجعات.

١٠- الشكل الصحيح الذي يمثل تسهيلات الإمداد (الخدمات اليومية) في الموقع

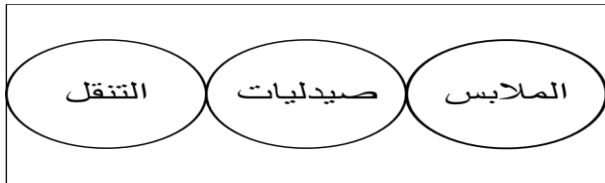
السياحي:



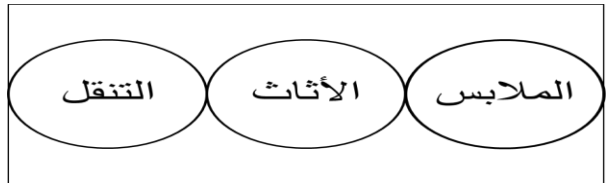
(ب)



(أ)



(د)



(ج)

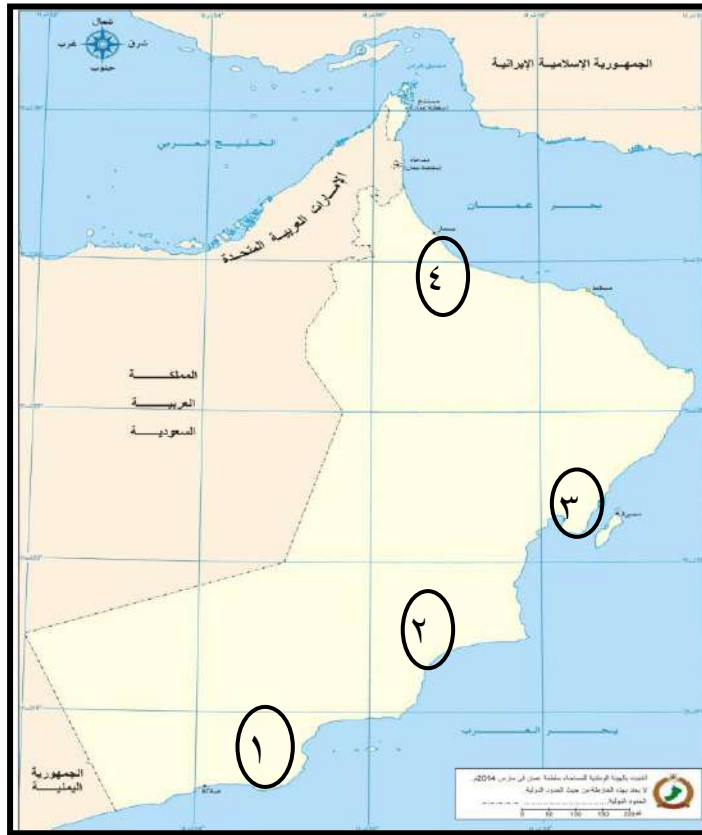
١١- من أشهر أسواق العرب في العصر الجاهلي والإسلامي:

أ- نزوى ب- بهلا ج- قلهاث د- صحار.

يتبع/٤

تابع السؤال الأول:

١٢- الرقم الذي يشير إلى موقع محمية الأراضي الرطبة:



أ- (١).

ب- (٢).

ج- (٣).

د- (٤).

السؤال الثاني:

أ (١)- عرّف المفاهيم الآتية:

أ- الحكومة الإلكترونية.

.....

ب- المرشد السياحي.

.....

أ- (٢)- عدد اثنين لكل من:

أ- اختصاصات منظمة التجارة العالمية.

..... ■

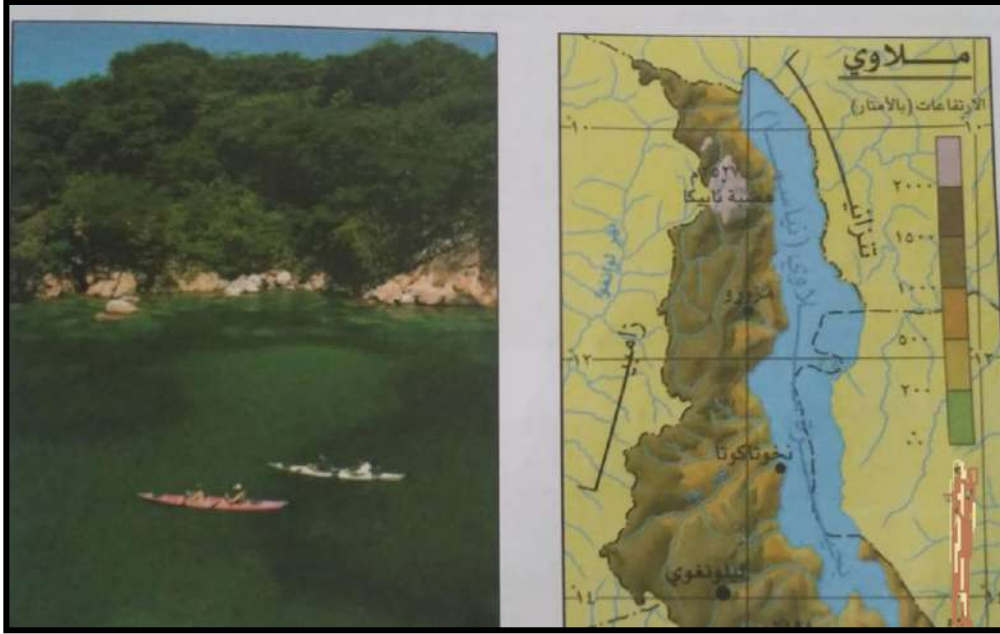
..... ■

تابع السؤال الثاني:

ب- الجوانب التي تشكل بيئة مناسبة للمناخ الاستثماري السياحي.

-
-

ب- يوضح الشكل المقابل إحدى المشاريع السياحية، أدرسه ثم أجب عن



الأسئلة الآتية:

١- ما الدولة التي يقع فيها هذا المشروع؟

٢- وضح أبرز الفوائد التي حققها المشروع للسكان المحليين.

-
-

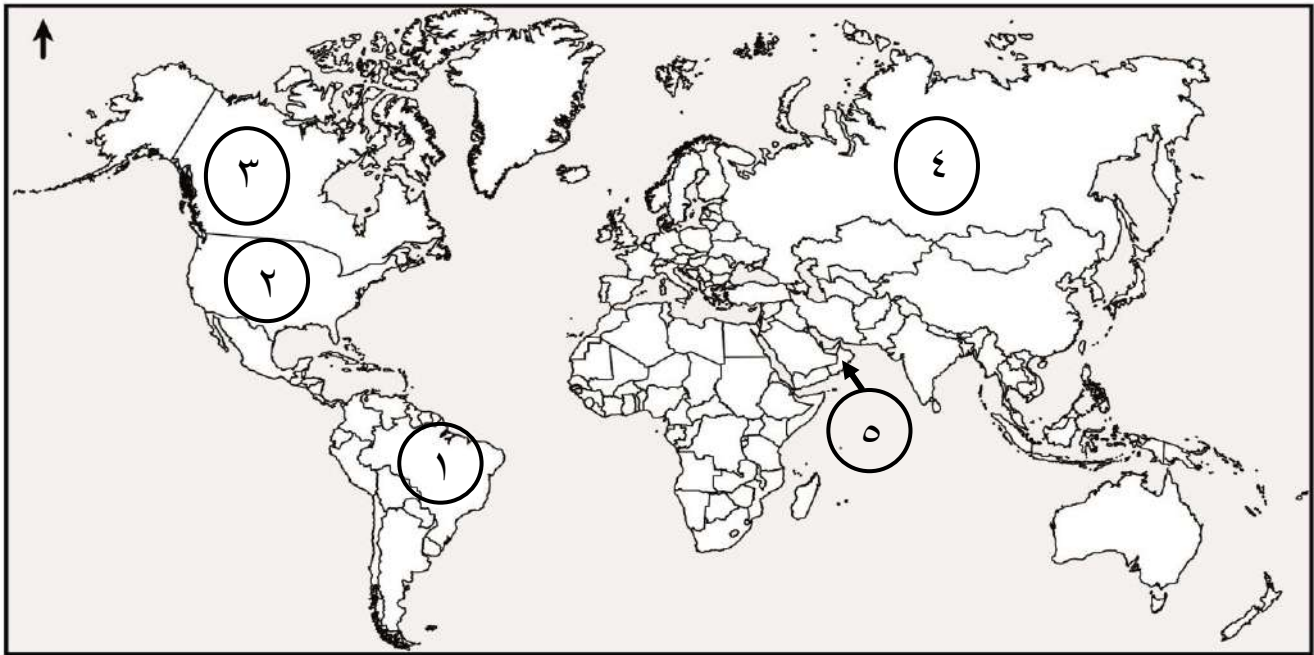
ج- ١- فسر/ يُعد الموقع الفلكي للجبال أحد العوامل المؤثرة في السياحة.


ج- ٢- (أ)- نوع العلاقة بين دخل الفرد والطلب على الرحلات السياحية.


- طردية) ()
عكسية) ()
ضع (✓) أمام الإجابة الصحيحة.
(ب) فسر إجابتك.

السؤال الثالث:

أ- أمامك خريطة العالم ادرسها جيدًا ثم أجب عن الأسئلة التالية:



- ١- ظلل باستخدام الرمز  الدولة التي تنشط فيها رياضة نزول الأخاديد.
- ٢- الرقم الذي يشير إلى الدولة التي عقد فيها المؤتمر العالمي للسياحة الجيولوجية عام ٢٠١١م ().
- ٣- الرقم الذي يشير إلى الدولة التي يوجد بها أكبر مطار في العالم من حيث أعداد المسافرين ().



ب (١)- يمثل الشكل المقابل إحدى التقنيات الحديثة في مجال الاتصالات، ادرسه جيدًا ثم أجب عن الأسئلة الآتية:

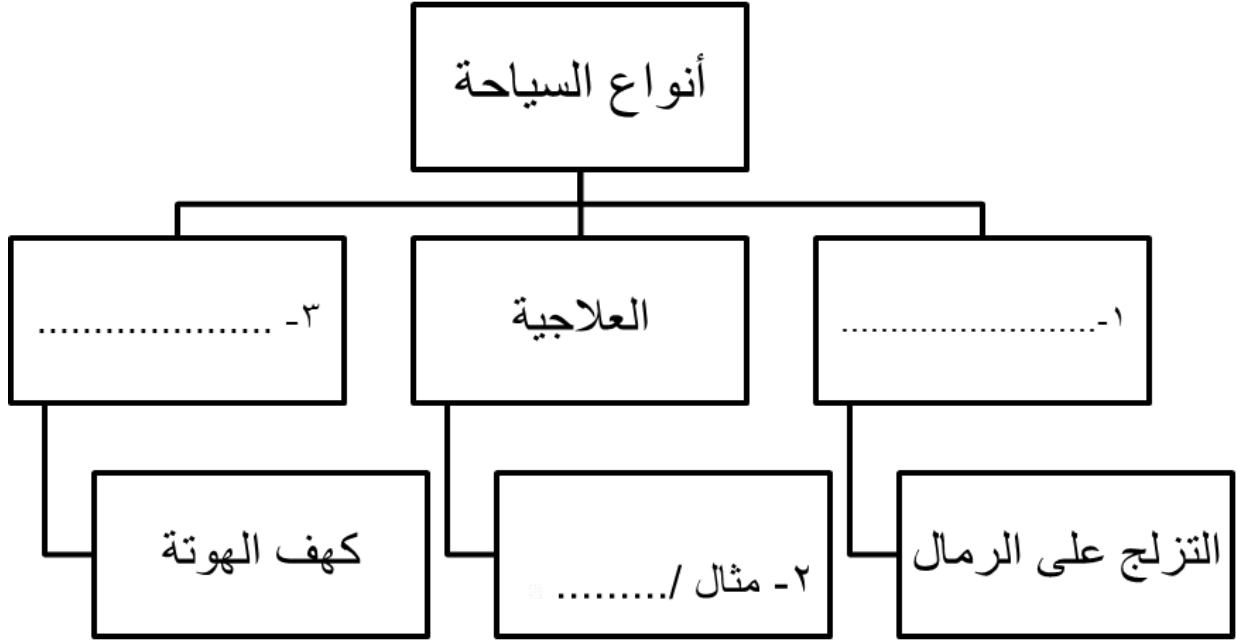
أ- وضح مميزات استخدام هذه التقنية في مجال الاتصالات الإلكترونية.

ب- فسر (أسهمت هذه التقنية في تطور الأنظمة الاقتصادية حول العالم).

يتبع/٧

تابع السؤال الثالث:

ب-(٢)- أكمل المخطط الآتي:



ج- (١) "تؤثر وسائل النقل بأنواعها المختلفة سلباً على البيئة، إذ تسهم في زيادة الانبعاثات المسببة للاحتباس الحراري" في ضوء العبارة السابقة:

أ- وضح الإجراءات المتبعة للتقليل من الآثار البيئية التي تخلفها وسائل النقل.

.....

ب- علل/ تسبب ناقلات النفط العملاقة تلوثاً لمياه البحار والمحيطات.

.....

تابع السؤال الثالث:

ج - (٢) - أمامك جدول يمثل إجمالي الصادرات والواردات السلعية لدولة الإمارات ودولة الكويت، لعام ٢٠١٣م، ادرسه جيداً ثم أجب عن الأسئلة الآتية.

الدولة	الصادرات (مليار دولار)	الواردات (مليار دولار)	الميزان التجاري (مليار دولار)
الإمارات	٢٢٦	١٨٦
الكويت	١١٤	٢٩

(أ) أحسب الميزان التجاري لدولة الكويت.

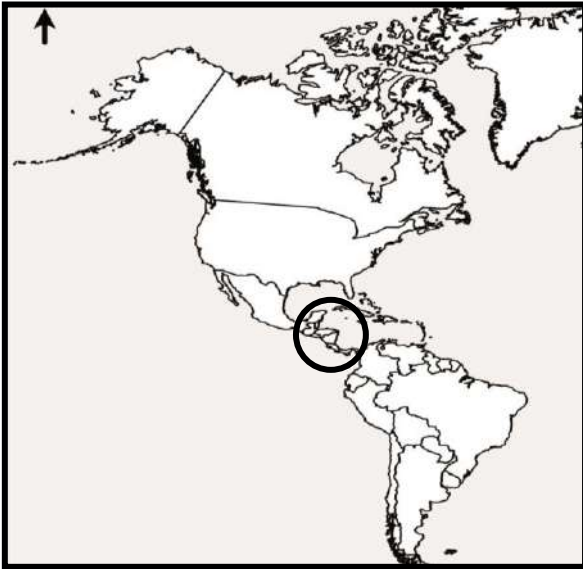
(ب) الدولة التي حققت أكبر فائض في الميزان التجاري.

الإمارات ()

الكويت ()

ضع (✓) أمام الإجابة الصحيحة.

السؤال الرابع:



أ- الخريطة التي أمامك توضح إحدى القنوات المائية في العالم، ادرسها جيداً، ثم أجب عن الأسئلة الآتية:

١- ما اسم هذه القناة المائية.

.....

٢- وضح أهميتها الاستراتيجية.

.....

.....

٣- فسر (تعتبر هذه القناة أعجوبة هندسية في طريقة انتقال السفن عبرها).

تابع السؤال الرابع:

ب- (١)- يمثل الشكل المقابل معلم سياحي، ادرسه جيدًا ثم أجب عن الأسئلة الآتية:



أ- ما اسم المعلم الواضح في الشكل المقابل.

.....

.....

ب- ما نوع السياحة التي يمثلها هذا المعلم.

.....

ب (٢) قارن بين النقل الجوي والنقل بالأنابيب، من حيث التكلفة وطبيعة المواد المنقولة.

أوجه المقارنة	النقل الجوي	النقل بالأنابيب
التكلفة.	تكلفة عالية.	(١).....
طبيعة المواد المنقولة.	(٢).....	النفط والغاز.

ج- (١) صنف العبارات التي توضح مفهوم السياحة الداخلية (يقوم برحلة تنزهه تبعد عن بيئته ١٦٠ كم- يقوم برحلة تنزهه تبعد عن بيئته ٨٠ كم- يقيم ليلة في المكان المقصود) حسب المعايير التي تحددها الدول في الجدول التالي (العالمي- سلطنة عمان - الولايات المتحدة الأمريكية وكندا).

المعيار	مفهوم السياحة الداخلية
العالمي	
سلطنة عمان.	
الولايات المتحدة الأمريكية وكندا.	

تابع السؤال الرابع:

ج- (٢) أدرس الجدول الذي أمامك، ثم أجب عن الأسئلة التالية.

الدولة	نسبة مساهمة قطاع السياحة من الناتج المحلي والإجمالي
إسبانيا	١٩%
الأردن	٢٦,١%
مصر	٢١,٧%
مالطا	٣٤,١%
بريطانيا	١٤,٢%
النمسا	١٦,٩%

أ- رتب الدول الأوروبية من الأكثر إلى الأقل حسب مساهمة السياحة في الناتج المحلي.

.....

ب- مثل بيانياً نسبة مساهمة القطاع السياحي في الناتج المحلي لإسبانيا.



انتهت الأسئلة مع الدعاء للجميع بالتوفيق والنجاح.




نموذج إجابة امتحان الصف الحادي عشر
للعام الدراسي ١٤٣٧/١٤٣٨ هـ - ٢٠١٦/٢٠١٧ م
الدور الأول - الفصل الدراسي الثاني

المادة: الجغرافيا الاقتصادية
تنبيهه: نموذج الإجابة في (٥) صفحات.
الدرجة الكلية: (٦٠) درجة.

أولاً: إجابة السؤال الموضوعي:

إجابة السؤال الأول

المفردة	البديل الصحيح	الإجابة	الدرجة	الصفحة
١	د	ارتفاع درجة الأمان	٢	١٣٣
٢	ب	النهر الثاني دائم الجريان مصّب النهر عريضاً يخلو من الجنادل	٢	١١٣
٣	ب		٢	١١٤
٤	ج	TIROS	٢	١٢٣
٥	أ	٣%	٢	١٤٩
٦	د	العازي العيالة البرعة	٢	١٥٣
٧	أ	الدقم.	٢	١٨٦
٨	د	الولايات المتحدة الأمريكية.	٢	١١١
٩	أ	شركة الطيران.	٢	١٨٠
١٠	ب	المطاعم المقاهي البقالات	٢	١٧٣
١١	د	صحار	٢	١٤٢
١٢	ج	٣	٢	١٦٤
المجموع		٢٤		

تابع نموذج إجابة امتحان الصف الحادي عشر
للعام الدراسي ١٤٣٧/١٤٣٨ هـ - ٢٠١٦/٢٠١٧ م
الدور الأول- الفصل الدراسي الثاني
المادة : الجغرافيا الاقتصادية

ثانيا: إجابة الأسئلة المقالية:

إجابة السؤال الثاني الرمز (/) يعني إجابة أخرى صحيحة الدرجة الكلية: (١٢) درجة				
الجزئية	المفردة	الإجابة الصحيحة	الدرجة	الصفحة
١/أ	أ	هي استخدام تكنولوجيا المعلومات والاتصالات فيما تقدمه الحكومة من خدمات للفرد والمجتمع.	١	١٢٦
	ب	هو الشخص الذي يقوم بشرح وتقديم المعلومات التاريخية والجغرافية والثقافية للسياح في المواقع السياحية.	١	١٧٤
٢/أ	أ	إدارة الاتفاقيات التجارية/ مساعدة الدول النامية في المواضيع المتعلقة بالسياسات التجارية (التكنولوجيا- التدريب) / فض المنازعات ذات صلة بالتجارة / مراجعة السياسات القومية المتعلقة بالتجارة/ التعاون مع المنظمات الدولية الأخرى. (يكتفى بمفردتين، لكل مفردة درجة).	٢	١٣٢-١٣١
	ب	توفر البنى التحتية / التسهيلات المصرفية والتجارية / توفير الأيدي العاملة المدربة والمؤهلة / التسهيلات عند المنافذ الحدودية. (يكتفى بمفردتين، لكل مفردة درجة).	٢	١٧٩-١٧٨
ب	١	موزمبيق.	١	١٨٤
	٢	أتاح فرص عمل للأهالي / روج بيع منتوجاتهم الحرفية . / ساهم في افتتاح (١٠ مدارس بالمنطقة) (يكتفى بمفردتين، لكل مفردة درجة).	٢	١٨٤
ج	١	إذا كانت ضمن العروض المعتدلة أو الباردة فتستغل شتاءً لممارسة الرياضات الشتوية كالتزلج على الجليد، أو صيفاً من أجل الاستجمام لتوافر خاصتي الهواء النقي والهدوء -أما إذا كانت المرتفعات ضمن العروض المدارية الحارة أو شبة الحارة فتستغل كمراكز للاصطياف.	١	١٦٩
	٢ (أ)	طردية	١	١٧٥
	٢ (ب)	كلما زاد دخل الفرد ساعد ذلك على زيادة الرحلات السياحية، حيث يرتبط الدخل بالقدرة على تكاليف الرحلة.	١	١٧٥

الدرجة الكلية: (١٢) درجة		الرمز (/) يعني إجابة أخرى صحيحة	إجابة السؤال الثالث	الجزئية
الصفحة	الدرجة	الإجابة الصحيحة	المفردة	
١٦٩	١	التظليل على أستراليا.	١	أ
١٦٢	١	٥	٢	
١١٨	١	٢	٣	
١٢٣	١	تغطية مساحة شاسعة من سطح الأرض. / يحقق اتصال بين عدة محطات في آن واحد.	١ (أ)	ب
١٢٣	١	سهلت عملية انتقال وتبادل البيانات وجعلتها أكثر سرعة ودقة / ساعد على سرعة انجاز المعاملات. / أصبح الحصول على الخدمات المختلفة من مختلف انحاء العالم أمراً سهلاً.	١ (ب)	
١٥٦ ١٥٨ ١٦٢	١ ١ ١	١- ترفيهية ٢- عين الكسفه / عين وضاح / غور الأردن/ واحة سبوة. ٣- الجيولوجية	٢	
١١٩	١	تطوير قطاع النقل العام / البحث عن وسائل نقل صديقة للبيئة. /فرض قوانين للحد من استخدام وسائل النقل التي تخلف كميات كبيرة من العوادم. <u>يكتفى بمفردة واحدة</u>	أ	ج (١)
١١٩	١	نتيجة تعرضها لحوادث الغرق/ تسرب حمولتها من النفط / رميها للمخلفات المختلفة.	ب	
١٢٨	١	الميزان التجاري لدولة الكويت = ١١٤ - ٢٩ = ٨٥ مليار دولار	أ	ج (٢)
١٢٨	١	الكويت	ب	

(٤)

تابع نموذج إجابة امتحان الصف الحادي عشر
للعام الدراسي ١٤٣٧/١٤٣٨ هـ - ٢٠١٦/٢٠١٧ م
الدور الأول - الفصل الدراسي الثاني
المادة : الجغرافيا الاقتصادية

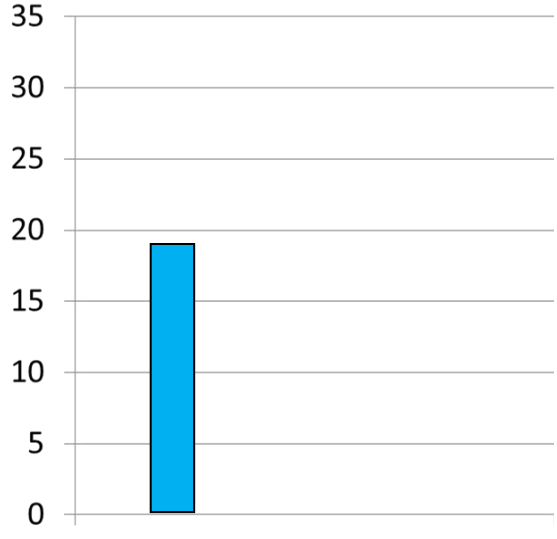
تابع ثانيا: إجابة الأسئلة المقالية:

الدرجة الكلية: (١٢) درجة		إجابة السؤال الرابع										
الصفحة	الدرجة	الإجابة الصحيحة	المفردة	الجزئية								
١١٧	١	قناة بنما.	١	أ								
١١٦	١	تربط بين البحر الكاريبي والمحيط الأطلسي بالمحيط الهادي /اختصار المسافة التي كان يقطعها الطريق القديم بالالتفاف حول قارة أمريكا الجنوبية.	٢									
١١٦	١	بسبب وجود حجرات مائية خاصة تعرف بالأهوسة تعمل على رفع السفن وخفضها من مستوى إلى آخر عبر القناة، حيث يختلف منسوب المياه في منطقة القناة في المحيط الأطلسي عنه في المحيط الهادي، مما جعل انتقال السفن أمراً يتطلب التحكم في مستويات المياه لمساعدة السفن على الإبحار.	٣									
١٥٥	١	متحف اللوفر في باريس.	أ	ب(١)								
١٥٣	١	ثقافية.	ب									
١١١ ١١٧	١ ١	(١) تكلفة منخفضة. (٢) المواد ذات القيمة العالية (المجوهرات، الالكترونيات، الاجهزة الدقيقة، البريد)، والمواد سريعة التلف (بعض الخضروات والفواكه)، بالإضافة إلى المسافرين.		ب(٢)								
١٤٤ ١٤٤ ١٤٤	١ ١ ١	<table border="1"> <thead> <tr> <th>المعيار</th> <th>مفهوم السياحة الداخلية</th> </tr> </thead> <tbody> <tr> <td>العالمي</td> <td>يقوم برحلة تنزه تبعد عن بيئته ٨٠ كم</td> </tr> <tr> <td>سلطنة عمان.</td> <td>يقيم ليلة في المكان المقصود</td> </tr> <tr> <td>الولايات المتحدة الأمريكية وكندا.</td> <td>يقوم برحلة تنزه تبعد عن بيئته ١٦٠ كم</td> </tr> </tbody> </table>	المعيار	مفهوم السياحة الداخلية	العالمي	يقوم برحلة تنزه تبعد عن بيئته ٨٠ كم	سلطنة عمان.	يقيم ليلة في المكان المقصود	الولايات المتحدة الأمريكية وكندا.	يقوم برحلة تنزه تبعد عن بيئته ١٦٠ كم	أ	ج ١
المعيار	مفهوم السياحة الداخلية											
العالمي	يقوم برحلة تنزه تبعد عن بيئته ٨٠ كم											
سلطنة عمان.	يقيم ليلة في المكان المقصود											
الولايات المتحدة الأمريكية وكندا.	يقوم برحلة تنزه تبعد عن بيئته ١٦٠ كم											

(٥)

تابع نموذج إجابة امتحان الصف الحادي عشر
للعام الدراسي ١٤٣٧/١٤٣٨ هـ - ٢٠١٦/٢٠١٧ م
الدور الأول - الفصل الدراسي الثاني
المادة : الجغرافيا الاقتصادية.

تابع ثانيا: إجابة الأسئلة المقالية:

الدرجة الكلية: (١٢) درجة		إجابة السؤال الرابع	
الصفحة	الدرجة	الإجابة الصحيحة	المفردة
١٤٧	١	١- مالطا ٢- إسبانيا ٣- النمسا ٤- بريطانيا يشترط الترتيب الصحيح لجميع الدول	٢ (أ)
١٤٧	١		٢ (ب)
			ج

نهاية نموذج الإجابة



مِنَاطِنَةُ عَمَانَ
وَزَارَةُ التَّعْلِيمِ وَالتَّحْقِيقِ

امتحان الصف الحادي عشر

للعام الدراسي ١٤٣٦/١٤٣٧ هـ - ٢٠١٥/٢٠١٦ م

الدور الأول - الفصل الدراسي الثاني

- المادة: الجغرافيا الاقتصادية.
- الإجابة في الورقة نفسها.

- عدد الصفحات: (١٠).
- زمن الإجابة: ساعتان.

		اسم الطالب
الصف	المدرسة	

(التوقيع بالاسم)		الدرجة بالحروف (بالأحمر)	الدرجة بالأرقام (بالأحمر)		السؤال
المدقق (بالأخضر)	المصحح (بالأحمر)		عشرات	آحاد	
					١
					٢
					٣
					٤
مراجعة الجمع والتشطيب (بالأزرق)	جمعه (بالأحمر)				المجموع
				٦٠	المجموع الكلي

امتحان الصف الحادي عشر
للعام الدراسي ١٤٣٦/١٤٣٧هـ - ٢٠١٥/٢٠١٦م
الدور الأول - الفصل الدراسي الثاني
المادة: الجغرافيا الاقتصادية

أجب عن جميع الأسئلة الآتية:

السؤال الأول: ضع دائرة حول رمز الإجابة الصحيحة لكل مفردة من المفردات الآتية: (درجتان لكل مفردة)

١- تعدُّ دورة الألعاب الأولمبية إحدى مظاهر التطور السياحي في القرن:

- أ- ١٨م. ب- ١٩م. ج- ٢٠م. د- ٢١م.



٢- نوع السياحة التي تعبر عنها الصورة المقابلة:

- أ- بيئية. ب- ترفيهية.

- ج- جيولوجية. د- ثقافية.

٣- أفضل وسيلة مستخدمة لنقل مورد الطاقة المشار إليه بالرمز () من الموقع (أ) إلى الموقع (ب) في الخريطة المقابلة:



- أ- الشاحنات. ب- السفن.

- ج- الأنابيب. د- الطائرات.

٤- الحدث الرياضي الأبرز الذي يثري السياحة من خلال تقديم صورة شاملة لتاريخ سلطنة عمان وثقافتها وحضارتها ومعالمها الطبيعية:

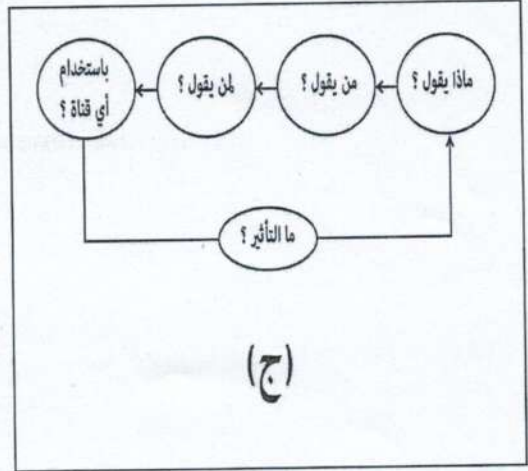
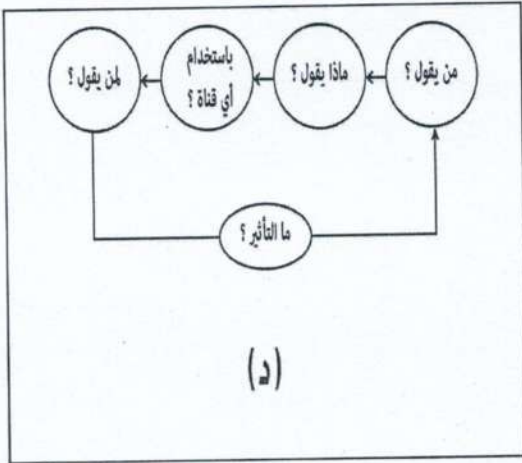
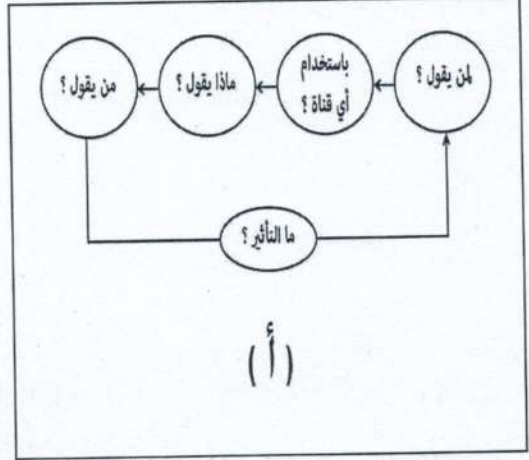
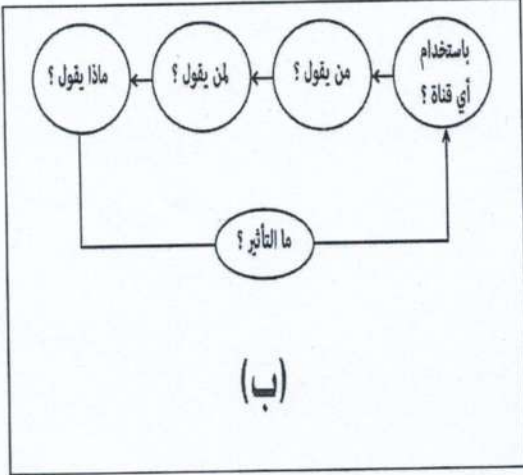
- أ- رالي عمان. ب- كأس الخليج. ج- طواف عمان. د- الإبحار الشراعي.

(٢)

تابع : امتحان الصف الحادي عشر
للعام الدراسي ١٤٣٦/١٤٣٧ هـ - ٢٠١٥/٢٠١٦ م
الدور الأول - الفصل الدراسي الثاني
المادة: الجغرافيا الاقتصادية

تابع السؤال الأول:

٥- الشكل الصحيح الذي يفسر عناصر عملية الاتصال:



٦- الولاية العمانية التي توجد بها المنطقة الاقتصادية في محافظة الوسطى:

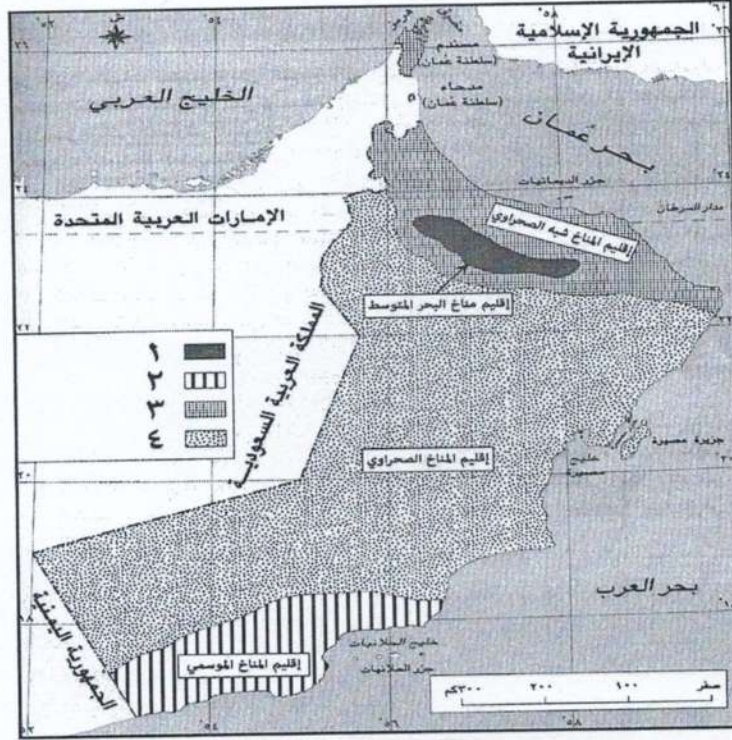
- أ- محوت. ب- الدقم. ج- هيماء. د- الجازر.

(٣)

تابع: امتحان الصف الحادي عشر
للعام الدراسي ١٤٣٦/١٤٣٧هـ - ٢٠١٥/٢٠١٦م
الدور الأول - الفصل الثاني
المادة: الجغرافيا الاقتصادية

تابع السؤال الأول:

٧- الرقم الذي يشير إلى الإقليم المناخي الذي يشهد زيادة أعداد السياح في فصل الصيف في الخريطة الآتية:



د- ٤

ج- ٣

ب- ٢

أ- ١

٨- أي الحالات الآتية تعطي تحليلاً صحيحاً لمفهوم السائح الداخلي كحد أدنى لعدد أيام الإقامة في سلطنة عمان؟

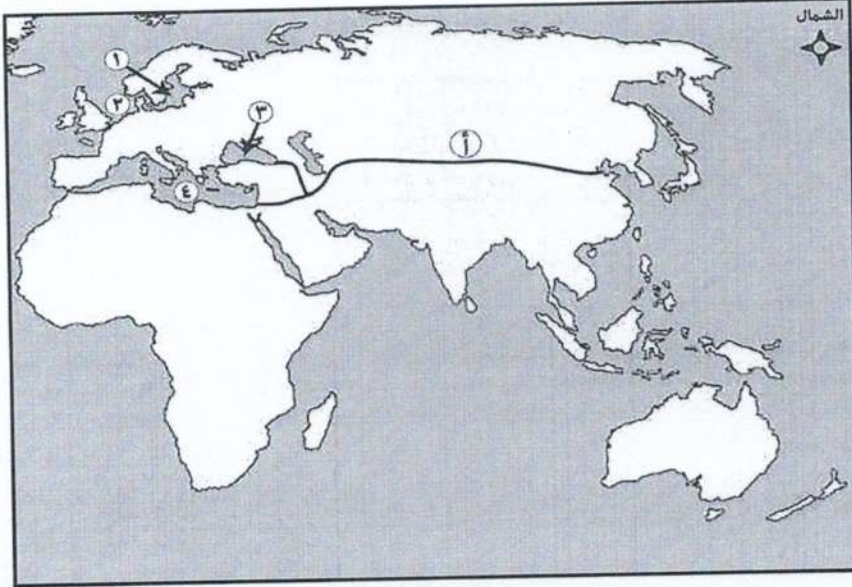
- أ- سائح أقام ليلتين في مدينة مسقط بغرض استثمار بعض أمواله في سوق مسقط للأوراق المالية.
- ب- سائح أقام أسبوعاً واحداً في مدينة صلالة وزار شاطئ المغسيل.
- ج- سائح أقام ٦ ساعات في منتجع السوادي بغرض المشاركة في مؤتمر علمي.
- د- سائح أقام ليلة في مدينة نزوى واشترى بعض التحف والهدايا.

يتبع/٤

تابع : امتحان الصف الحادي عشر
للعام الدراسي ١٤٣٦/١٤٣٧هـ - ٢٠١٥/٢٠١٦م
الدور الأول - الفصل الدراسي الثاني
المادة: الجغرافيا الاقتصادية

تابع السؤال الأول:

مستعينًا بالخريطة التي أمامك أجب عن المفردتين (١٠ و٩).



٩- أهم السلع التي كانت تنقل عبر الطريق القديم المشار إليه بالرمز (أ):

- أ- الملح. ب- القمح. ج- الحرير. د- اللبان.

١٠- الأرقام التي تشير إلى البحار التي كانت تربط تجارة العنبر بين الشمال والجنوب في سواحل قارة أوروبا:

- أ- ١ و٤ ب- ٣ و٤ ج- ١ و٢ د- ٢ و٣

١١- أي حالات الأسر الآتية تزيد فيها المشاركة في الأنشطة السياحية المختلفة؟

أ-

الحجم	صغير
الدخل	منخفض
مستوى التعليم	منخفض

ب-

الحجم	كبير
الدخل	مرتفع
مستوى التعليم	منخفض

ج-

الحجم	كبير
الدخل	منخفض
مستوى التعليم	مرتفع

د-

الحجم	صغير
الدخل	مرتفع
مستوى التعليم	مرتفع

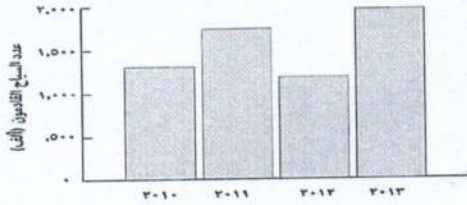
(٥)

تابع : امتحان الصف الحادي عشر
للعام الدراسي ١٤٣٦/١٤٣٧ هـ - ٢٠١٥/٢٠١٦ م
الدور الأول - الفصل الدراسي الثاني
المادة: الجغرافيا الاقتصادية

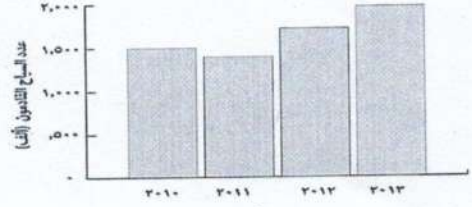
تابع السؤال الأول:

١٢- الشكل البياني الصحيح الذي يوضح أعداد السياح القادمين (الوافدين) إلى سلطنة عمان حسب الجدول الآتي:

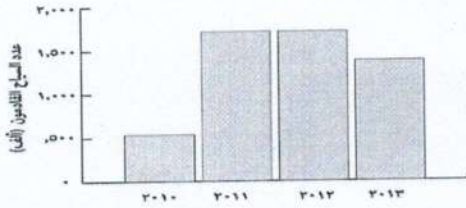
العالم الميلادي	عدد السياح القادمون (ألف)
٢٠١٠	١,٥٠٠
٢٠١١	١,٣٩٣
٢٠١٢	١,٧١٤
٢٠١٣	١,٩٦١



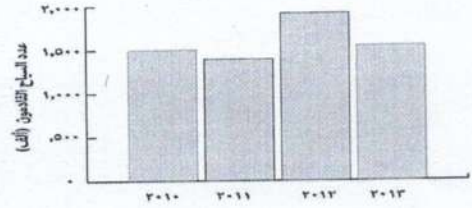
(ب)



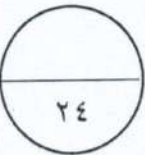
(أ)



(د)



(ج)



السؤال الثاني: أجب عن الأسئلة الآتية:

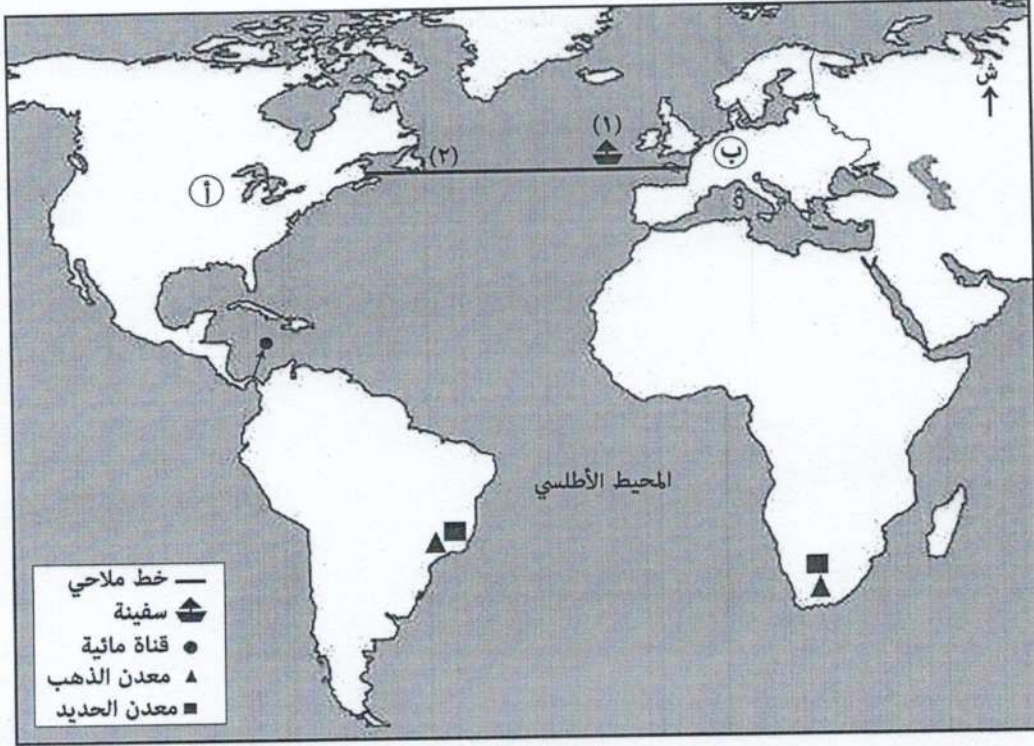
- ١- اذكر واحدة مما يأتي:
- أ- مميزات النقل بالسكك الحديدية.
- ب- إجراءات تتبعها دول العالم للتقليل من الأثار البيئية التي تخلفها وسائل النقل. (درجة).....
- ج- اختصاصات منظمة التجارة العالمية (WTO). (درجة).....
- د- مميزات النقل بالسكك الحديدية. (درجة).....

يتبع / ٦

تابع : امتحان الصف الحادي عشر
للعام الدراسي ١٤٣٦/١٤٣٧ هـ - ٢٠١٥/٢٠١٦ م
الدور الأول - الفصل الدراسي الثاني
المادة: الجغرافيا الاقتصادية

تابع السؤال الثاني:

٢- استعن بالخريطة التي أمامك ثم أجب عن الأسئلة التي تليها:



أ- ارسم الخط الملاحي البحري (الأطلسي الجنوبي) في الخريطة باستخدام الرمز الخطي (_____) . (درجة)
ب - " تعد القناة المشار إليها بالرمز (●) في الخريطة أعجوبة هندسية في طريقة انتقال السفن عبرها".
فسر هذه العبارة.

ج - " تتجه السفينة المشار إليها بالرقم (١) غربًا نحو السواحل الشرقية للقارة (أ) وفي أثناء خط سيرها يمكن أن تواجه كتلاً جليدية عائمة في الموقع (٢)".

١- ما التقنية المناسبة التي تكشف للسفينة الكتل الجليدية في الموقع (٢)؟

- GIS -
 GPS -

٢- ولماذا؟ (درجة)

ضع إشارة (✓) على الإجابة الصحيحة (درجة)

تابع : امتحان الصف الحادي عشر
للعام الدراسي ١٤٣٦/١٤٣٧ هـ - ٢٠١٥/٢٠١٦ م
الدور الأول- الفصل الدراسي الثاني
المادة: الجغرافيا الاقتصادية

تابع السؤال الثاني:

د - "تشتهر بعض دول القارة المشار إليها في الخريطة بالرمز (ب) بإنتاج و تصدير منتجات صناعية إلكترونية يدخل في صناعتها المعدن المشار إليه بالرمز (▲)".

١- ما نوع وسائل النقل المناسبة لتصدير تلك المنتجات إلى مختلف دول العالم؟

- النقل الجوي
 - النقل البحري
 - النقل البري

ضع إشارة (√) على الإجابة الصحيحة. (درجة)

٢- فسر إجابتك:..... (درجة)

..... (درجة)

٣- "طبقاً للإحصائيات الواردة في ملاحق تقرير (مقياس مجتمعات المعلومات في العالم ٢٠١٥م) الصادر عن الاتحاد العالمي للاتصالات فقد تم تصنيف سلطنة عمان كواحدة من أعلى الدول في العالم من ناحية نسبة انتشار خدمات الهاتف المتنقل وسهولة الحصول على خدمات الاتصالات". (جريدة الوطن ٢٩ فبراير ٢٠١٦م)

في ضوء العبارة السابقة اذكر واحداً في كل مما يأتي:
أ- المشاريع الرائدة في مجال تطبيقات الحكومة الإلكترونية في سلطنة عمان.

..... (درجة)

ب - جائزة تهدف إلى تشجيع المؤسسات الحكومية والخاصة في تعزيز استخدام التقنية الرقمية في سلطنة عمان.

..... (درجة)

ج - نتيجة مترتبة على استخدام التكنولوجيا الرقمية في إنجاز المعاملات التجارية في سلطنة عمان.

..... (درجة)



السؤال الثالث: أجب عن الأسئلة الآتية:

١- أ- ما المقصود بما يأتي:

١- العرض السياحي:.....

..... (درجة)


٢- المدونة العالمية لأخلاقيات السياحة:.....

..... (درجة)

تابع : امتحان الصف الحادي عشر
للعام الدراسي ١٤٣٦/١٤٣٧ هـ - ٢٠١٥/٢٠١٦ م
الدور الأول - الفصل الدراسي الثاني
المادة: الجغرافيا الاقتصادية

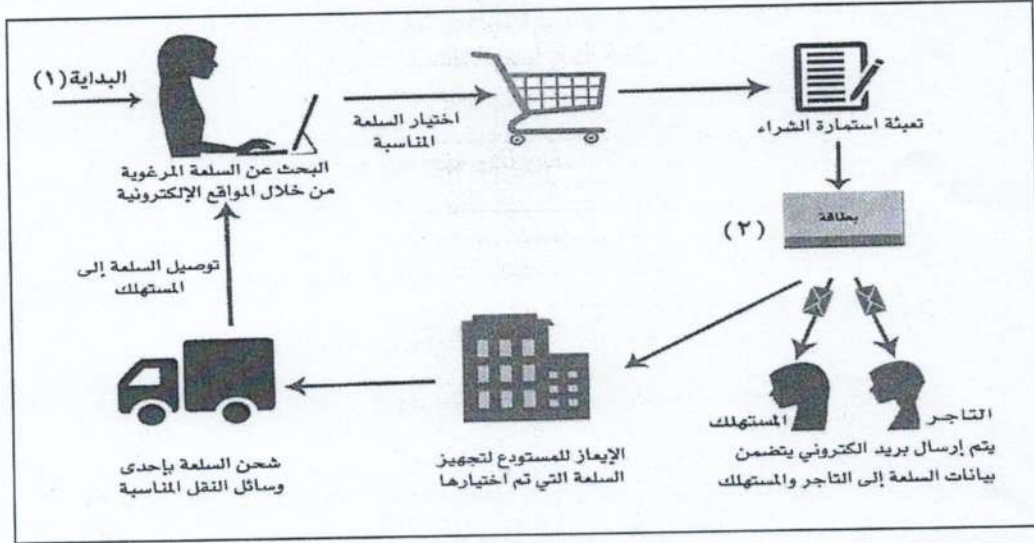
تابع السؤال الثالث:

ب- اكتب أسفل الصور الآتية نوع مقومات السياحة البشرية في سلطنة عمان.



١-
٢-
٣- (٣ درجات)

٢- انظر إلى الشكل الذي أمامك والذي يوضح مراحل التجارة الإلكترونية باستخدام الحاسب الآلي ثم اكتب ما يأتي:



أ- اثنين من الإجراءات الأمانة الواجب اتخاذها قبل البحث عن السلعة المرغوبة في الرقم (١) لضمان وصول السلعة.

.....
(درجتان)

ب- نوع البطاقة المصرفية التي تستخدم للتسوق عبر الإنترنت في الرقم (٢).

.....
(درجة)

٣- أ - قارن بين السياحة العلاجية والسياحة الجيولوجية حسب الجدول الآتي:

نوع السياحة	مثال لكل منها في سلطنة عمان
العلاجية
الجيولوجية

(درجتان)

تابع : امتحان الصف الحادي عشر
للعام الدراسي ١٤٣٦/١٤٣٧ هـ - ٢٠١٥/٢٠١٦ م
الدور الأول - الفصل الدراسي الثاني
المادة : الجغرافيا الاقتصادية

تابع السؤال الثالث:

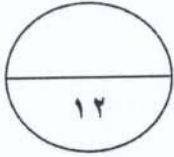
ب - " بلغت نسبة السياح الأوروبيين الذين زاروا المهرجانات المقامة في سلطنة عمان (مهرجان مسقط - مهرجان صلالة) عام ٢٠١٣ م حوالي ١٩%".
(جريدة السفير اللبنانية ٢٠١٤ م).

١ - ما نوع السياحة التي يهدف إليها هؤلاء السياح؟

..... (درجة)

٢ - كيف يسهم هذا النوع من السياحة في التواصل الحضاري بين الشعوب؟

..... (درجة)



السؤال الرابع: أجب عن الأسئلة الآتية:



- ١- أمامك صورة لمراعي جبال ظفار. ادرسها جيداً، ثم اكتب فقرة مترابطة تتناول فيها:
 - الممارسة البشرية الخاطئة التي تعمل على تدمير البيئة من خلال الصورة المقابلة.
 - الآثار الناتجة عنها.
 - حلاً واحداً لمواجهة تلك الممارسة.

.....
.....
.....
.....

..... (٣ درجات)

٢- أ- صنف المحميات الطبيعية الآتية في سلطنة عمان حسب المحافظات في الجدول التالي:
(الكائنات الحية والفطرية، خور روري، حديقة السليل الطبيعية، جبل سمحان)

اسم المحافظة	ظفار	الوسطى	جنوب الشرقية
اسم المحمية

(٤ درجات)

يتبع / ١٠

تابع : امتحان الصف الحادي عشر
للعام الدراسي ١٤٣٦/١٤٣٧ هـ - ٢٠١٥/٢٠١٦ م
الدور الأول - الفصل الدراسي الثاني
المادة : الجغرافيا الاقتصادية

تابع السؤال الرابع: أجب عن الأسئلة الآتية:

ب - ادرس الجدول الآتي ثم أجب عن الأسئلة التي تليه:

الدولة	عدد السياح / مليون	العائد / مليار دولار	نفقات تنشيط السياحة / مليون دولار
إيطاليا	٤٧,٧	٤٣,٩	٢٧
الولايات المتحدة الأمريكية	٦٩,٨	٦٩,٣١	٨٦,٢
فرنسا	٨٣	٥٦,١	٤٢,٤
مصر	٩,٢	٦	٣
الصين	٥٥,٧	٥١,٧	١٢٨,٦
ألمانيا	٣١,٥	٤١,٢	٨٥,٩

١- استنتج من الجدول السابق السبب الرئيس لقلّة العائد السياحي في مصر مقارنة بالدول السياحية الأخرى.

..... (درجة)

٢- رتّب الدول الأوروبية تنازليًا (من الأكثر إلى الأقل) من حيث العائد من السياحة.

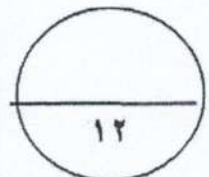
..... (درجة)

٣- "تشتهر المناطق السياحية في سلطنة عمان بتوفر العديد من المقومات الطبيعية والبشرية التي تجذب السائح إليها".

في ضوء هذه العبارة اكتب فقرة مترابطة تصف فيها إحدى المناطق السياحية التي زرتها أو شاهدتها عبر التلفاز موضحا ما يأتي:

- أهم المقومات الطبيعية والبشرية التي تشتهر بها.
- مقترحاتك لتطوير تلك المنطقة.

.....
.....
.....



..... (٣ درجات)



سلطنة عمان
وزارة التربية والتعليم



نموذج إجابة امتحان الصف الحادي عشر
للعام الدراسي ١٤٣٦/١٤٣٧هـ - ٢٠١٥/٢٠١٦م
الدور الأول- الفصل الدراسي الثاني

الدرجة الكلية: (٦٠) درجة.

المادة: الجغرافيا الاقتصادية.
تنبيهه: نموذج الإجابة في (٦) صفحات.

أولاً: إجابة السؤال الموضوعي:-

الدرجة: (٢٤) درجة		إجابة السؤال الأول								
الصفحة	الدرجة	الإجابة	البديل الصحيح	المفردة						
١٤٣	٢	٢٠	ج	١						
١٦١	٢	بيئية	أ	٢						
١١٢	٢	الأنايبب	ج	٣						
١٥٧	٢	طواف عمان	ج	٤						
١٢١	٢	<p>(د)</p>	د	٥						
١٣١	٢	الدقم	ب	٦						
١٦٧ و ١٦٨	٢	٢	ب	٧						
١٤٤	٢	سائح أقام ليلة في مدينة نزوى واشترى بعض التحف والهدايا.	د	٨						
١٠٤	٢	الحرير	ج	٩						
١٠٥	٢	٤ أو	أ	١٠						
١٧٦، ١٧٥	٢	<table border="1"> <tr> <td>صغير</td> <td>الحجم</td> </tr> <tr> <td>مرتفع</td> <td>الدخل</td> </tr> <tr> <td>مرتفع</td> <td>مستوى التعليم</td> </tr> </table>	صغير	الحجم	مرتفع	الدخل	مرتفع	مستوى التعليم	د	١١
صغير	الحجم									
مرتفع	الدخل									
مرتفع	مستوى التعليم									
١٧٩	٢		أ	١٢						
٢٤ درجة		المجموع								

(٢)

تابع نموذج إجابة امتحان الصف الحادي عشر
للعام الدراسي ١٤٣٦/١٤٣٧هـ - ٢٠١٥/٢٠١٦م
الدور الأول- الفصل الدراسي الثاني
المادة: الجغرافيا الاقتصادية



ثانياً: إجابة الأسئلة المقالية:-

الدرجة الكلية : (١٢) درجة		إجابة السؤال الثاني			
الصفحة	الدرجة	الرمز (/) يعني إجابة أخرى صحيحة	الإجابة الصحيحة	المفردة	الجزئية
١٠٨	١		القدرة على نقل الحمولات الثقيلة ولمسافات طويلة وبسرعة عالية.	أ	١
١١٩	١		١- تطوير قطاع النقل العام، وتشجيع الأفراد على استخدامه أو استخدام الدرجات الهوائية للتنقل. ٢- البحث عن وسائل نقل صديقة للبيئة، مثل المركبات الكهربائية أو المركبات التي تعتمد على الطاقة الشمسية. ٣- فرض قوانين للحد من استخدام وسائل النقل التي تُخلف كميات كبيرة من العوادم.	ب	
١٣٢-١٣١	١		<u>يكتفى بوحدة</u> ١- إدارة الاتفاقيات التجارية. ٢- مساعدة الدول النامية في المواضيع المتعلقة بالسياسات التجارية. ٣- فض المنازعات ذات الصلة بالتجارة. ٤- مراجعة السياسات القومية المتعلقة بالتجارة. ٥- التعاون مع المنظمات الدولية الأخرى.	ج	
			<u>يكتفى بوحدة</u>		



(٣)
 وزارة التعليم العالي والبحث العلمي
 وزارة الشؤون الاجتماعية والعمل
 للعام الدراسي ١٤٣٦/١٤٣٧ هـ - ٢٠١٥/٢٠١٦ م
 الدور الأول- الفصل الدراسي الثاني
 المادة: الجغرافيا الاقتصادية

ثانياً: إجابة الأسئلة المقالية:-

الدرجة الكلية : (١٢) درجة		إجابة السؤال الثاني			
الصفحة	الدرجة	الرمز (/) يعني إجابة أخرى صحيحة	الإجابة الصحيحة	المفردة	الجزئية
١١٥	١		<p>لأن انتقال السفن من الجهة ذات المنسوب المنخفض إلى المنسوب المرتفع أمرًا يتطلب التحكم في مستويات المياه لمساعدة السفن على الإبحار/ بسبب وجود حجرات مائية خاصة تُعرف بالأهوسة تعمل على رفع السفن وخفضها من مستوى إلى مستوى آخر عبر القناة.</p>	أ	٢
١١٦	١		<p>١- GPS ٢- لأنه نظام يساعد السفن على تحديد المواقع في البحار والمحيطات في مختلف الظروف الجوية عن طريق الاتصال بالأقمار الصناعية.</p>	ب	
١١٥	١		<p>١- النقل الجوي. ٢- لأنه يركز على نقل المواد ذات القيمة العالية/ لأنها منتجات غالية الثمن.</p>	ج	
١١٥	١				
١١٧	١		<p>١- النقل الجوي. ٢- لأنه يركز على نقل المواد ذات القيمة العالية/ لأنها منتجات غالية الثمن.</p>	د	
١١٧	١				

(٤)

تابع نموذج إجابة امتحان الصف الحادي عشر
للعام الدراسي ١٤٣٦/١٤٣٧ هـ - ٢٠١٥/٢٠١٦ م
الدور الأول- الفصل الدراسي الثاني
المادة: الجغرافيا الاقتصادية



الدرجة الكلية: (١٢) درجة		تابع إجابة السؤال الثاني					
الصفحة	الدرجة	الرمز (/) يعني إجابة أخرى صحيحة	الإجابة الصحيحة	المفردة	الجزئية		
١٢٧	١		أ - مجتمع عمان الرقمي. ب - جائزة السلطان قابوس للإجادة في الخدمات الإلكترونية. ج - ظهور نوع جديد من الاقتصاد هو الاقتصاد الرقمي الذي يعتمد على استخدام التكنولوجيا الرقمية في إنجاز المعاملات التجارية/ ظهور العديد من المواقع الإلكترونية بهدف تسويق سلع وخدمات معينة/ سرعة إنجاز المعاملات التجارية.		٣		
١٢٧	١						
١٢٥	١						
الدرجة الكلية: (١٢) درجة		إجابة السؤال الثالث					
الصفحة	الدرجة	الرمز (/) يعني إجابة أخرى صحيحة	الإجابة الصحيحة	المفردة	الجزئية		
١٧٦	١		١- كل المستلزمات التي يجب توافرها في أماكن المقصد السياحي لسياحها الحقيقيين أو المحتملين والخدمات والبضائع وكل شيء يحتمل أن يشجع الناس على زيارة بلد معين. ٢- أهم وثيقة دولية تناولت المبادئ الأخلاقية التي تحكم الجوانب الاقتصادية والبيئية والاجتماعية لصناعة السياحة على مستوى العالم/ وثيقة تستخدم للتقليل أو الحد من الآثار السلبية التي تنتج عن السياحة/ وثيقة اشتملت على معايير ومؤشرات دولية غير ملزمة للحكومات والأجهزة الأخرى المشاركة في السياحة لتسترشد بها في وضع أنظمتها وقوانينها وكافة الإجراءات التي تستهدف التعريف بفوائد السياحة ومضارها.	أ	١		
١٨٥	١						
١٧٣	١						
١٧٠ و ١٧٣ ١٧١	١						
			١- تسهيلات السياحة. ٢- عوامل حضارية/ ثقافية. ٣- البنية الأساسية/ النقل.	ب			



الدرجة الكلية: (١٢) درجة

إجابة السؤال الثالث

الصفحة	الدرجة	الرمز (/) يعني إجابة أخرى صحيحة	الإجابة الصحيحة	المفردة	الجزئية						
١٣٣	٢		- التأكد من عدم اختراق الحواسيب. - أن تكون المواقع الإلكترونية للشركات موثوق بها.	أ-	٢						
١٣٤	١		بطاقة ائتمان / ماستر كارد/ البطاقة الذكية.	ب							
١٥٨ ١٦٢ ١٨٦	١ ١ ١		<table border="1"> <tr> <td>نوع السياحة</td> <td>مثال لكل منها في سلطنة عمان</td> </tr> <tr> <td>العلاجية</td> <td>عين الكسفة/ عين الوضاح</td> </tr> <tr> <td>الجيولوجية</td> <td>كهف الهوتة/ حديقة الصخور.</td> </tr> </table>	نوع السياحة	مثال لكل منها في سلطنة عمان	العلاجية	عين الكسفة/ عين الوضاح	الجيولوجية	كهف الهوتة/ حديقة الصخور.	أ	
نوع السياحة	مثال لكل منها في سلطنة عمان										
العلاجية	عين الكسفة/ عين الوضاح										
الجيولوجية	كهف الهوتة/ حديقة الصخور.										
١٥٣ ١٥٣	١ ١		١- ثقافية. ٢- اكتشاف عادات وتقاليد وثقافات الشعوب/ التعرف على طرق حياة الشعوب في المأكل والملبس/ التعرف على التراث الثقافي الموجود في المتاحف والمواقع الأثرية والتاريخية ومواقع التراث العمراني. (بما يفيد المعنى فيما ذكر)	ب	٣						



الدرجة الكلية: (١٢) درجة

إجابة السؤال الرابع

الصفحة	الدرجة	الرمز (/) يعني إجابة أخرى صحيحة	الإجابة الصحيحة	المفردة	الجزئية								
١٨١- ١٨٢	٣		الممارسات البشرية الخاطئة التي تعمل على تدمير البيئة، المرور بالسيارات في المناطق الريفية (درجة) وهذا يؤدي إلى القضاء على الحشائش/ وتدهور المراعي/ تلوث التربة بالمواد السامة. (درجة) ولمواجهة تلك الممارسات ينبغي تطبيق إجراءات السياحة البيئية المستدامة/ أو عمل سياح للمراعي/ أو تطبيق مخالفات بلدية أو مرورية (درجة).		١								
١٦٤	٤		<table border="1"> <thead> <tr> <th>اسم المحافظة</th> <th>ظفار</th> <th>الوسطى</th> <th>جنوب الشرقية</th> </tr> </thead> <tbody> <tr> <td>اسم المحمية</td> <td>خور روري/ جبل سمحان</td> <td>الكائنات الحية والفطرية</td> <td>حديقة السليل الطبيعية</td> </tr> </tbody> </table>	اسم المحافظة	ظفار	الوسطى	جنوب الشرقية	اسم المحمية	خور روري/ جبل سمحان	الكائنات الحية والفطرية	حديقة السليل الطبيعية	أ	٢
اسم المحافظة	ظفار	الوسطى	جنوب الشرقية										
اسم المحمية	خور روري/ جبل سمحان	الكائنات الحية والفطرية	حديقة السليل الطبيعية										
١٧٨	١		١- قلة نفقات تنشيط السياحة.	ب									
١٧٨	١		٢- فرنسا- إيطاليا- ألمانيا. يشترط الترتيب الصحيح.										
١٦٧- ١٧٣ ١٧٤	١		<p>- يصف المقومات الطبيعية في المنطقة مثل (الموقع/ المناخ/ أشكال السطح) يكتفى بذكر مقوم واحد.</p> <p>- يصف أحد المقومات البشرية في المنطقة مثل (العوامل الحضارية والثقافية/ العوامل التاريخية والدينية/ وسائل النقل/ المنشآت السياحية/ تسهيلات الإمداد/ البنية الأساسية).</p> <p>- يكتب مقترحًا لتطوير المنطقة مثل(زيادة الإستثمارات في مرافق البنية التحتية/ إنشاء البنية التحتية وتطويرها/ تحسين الخدمات بشكل عام) يكتفى بمقترح واحد.</p>		٣								
	١		بما يفيد المعنى										